



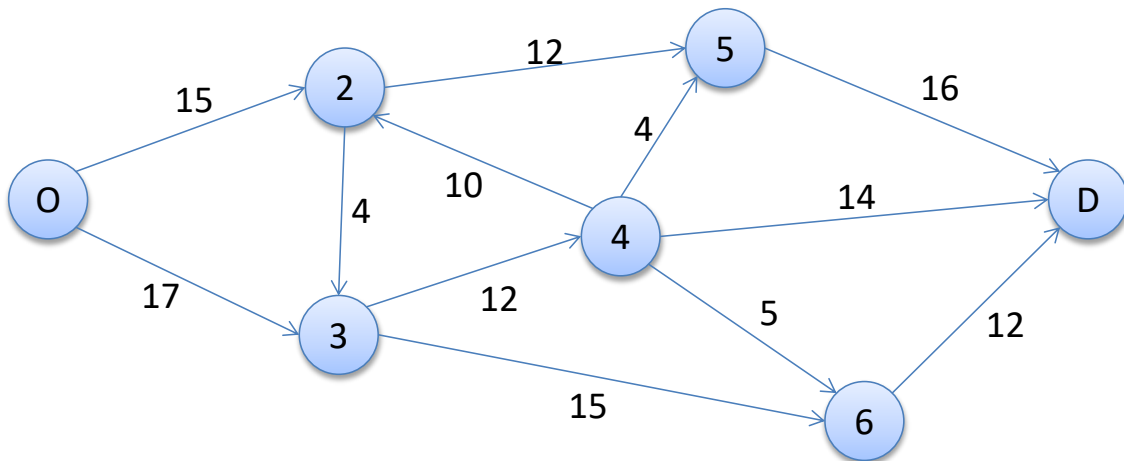
PROFESSOR: Daniel Caetano
DISCIPLINA: CCE1014 – Pesquisa Operacional II
GABARITO

INSTRUÇÕES

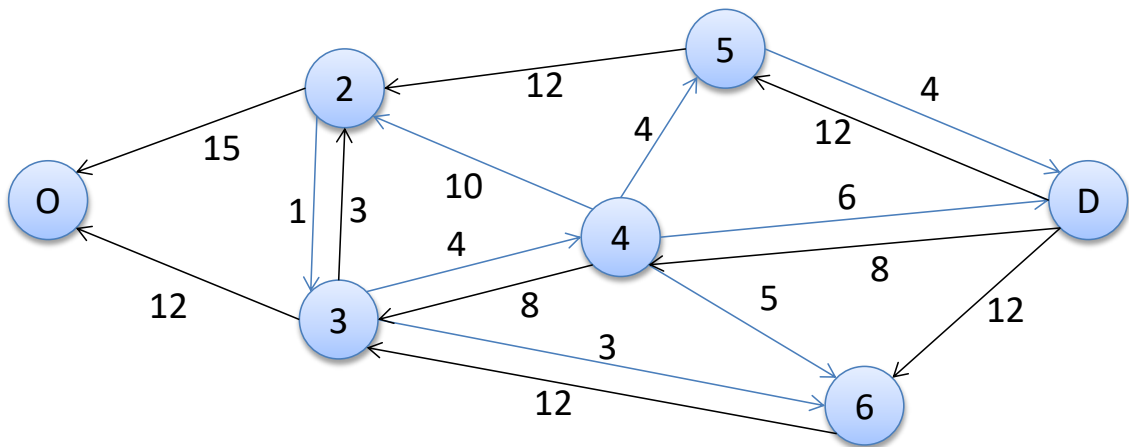
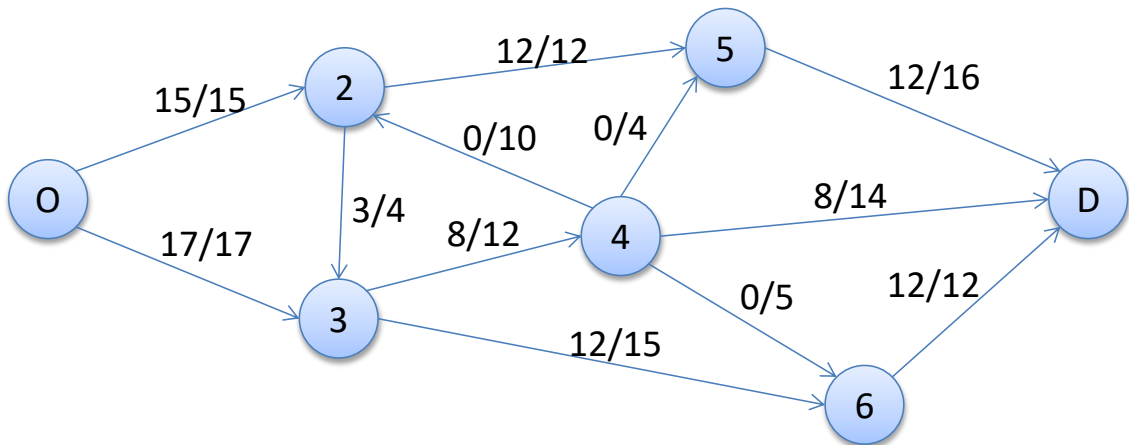
- Use seu caderno/fichário para responder; o exercício deve ser feito à mão.
- No topo da folha, preencha o código da disciplina, número da aula, seu nome e seu R.A.
- Use o programa **Adobe Scan** para tirar fotos das páginas com a solução do exercício e gerar um **PDF**.
- Entregue o **PDF** gerado pelo **SAVA**.
- NÃO** serão aceitos trabalhos após o prazo, fique atento;

QUESTÕES - AULA 10

10.1) Aplique o método de Ford-Fulkerson e identifique o fluxo máximo:



Solução



$F_{\text{máx}}$ é 27